

ШИФР 11-15

Олимпиадная работа  
муниципального этапа всероссийской олимпиады школьников  
по географии

Козловой Евгении Владимировны

учащейся 11 класса

муниципального бюджетного общеобразовательного учреждения  
«Центр образования – средняя школа №22»  
Старооскольского городского округа

Педагог-наставник:  
учитель географии и биологии  
МБОУ «ЦО-СПШ №22»  
Проскурина Наталья Николаевна

	Задание 1.	Задание 2.	Задание 3.	Задание 4.	Задание 5.	тест	итого
Баллы	4	2	158.	8	20	7	42,5

**Задания муниципального этапа  
всероссийской олимпиады школьников по географии  
2025-2026 учебный год, 10-11 класс**

Время выполнения – 180 минут

Максимальный балл – 169

**Не разрешается** пользоваться атласами, любыми справочными данными, в том числе сотовыми телефонами, и прочими гаджетами. Пишите разборчиво! Удачи!

**Аналитический раунд**

**Задание 1.** Максимальное количество баллов – 20

4

Химическая и нефтехимическая промышленность является одной из самых прогрессивных и быстро развивающихся отраслей в мировой промышленности. Во второй декаде ноября 2025 года, в Москве прошла Международная выставка «ХИМИЯ», которая проводится в Москве с 1965 года и является одной из наиболее престижных выставок в своей отрасли. На площадках выставки можно было ознакомиться с продукцией, выпускаемой предприятиями данной отрасли народного хозяйства. Из предложенного списка впишите предприятия в соответствующую строку таблицы, учитывая характеристику выпускаемой продукции, укажите субъект Российской Федерации на территории которого расположено предприятие.

**«Газпром нефтехим Салават», «Нижнекамскнефтехим», «Уралкалий»,  
«Казаньоргсинтез»**

	Наименование предприятия	Характеристика по выпускаемой продукции	Субъект РФ
А	Нижнекамскнефтехим	Единственный российский производитель поликарбонатов, сэвилена, металлоценового полиэтилена – пластиков высокой прочности, а также один из крупнейших в стране производителей полиэтиленов высокой и низкой плотности.	Нижнекамск
Б	Казаньоргсинтез	Мировой лидер по выпуску изопренового каучука, входит в тройку крупнейших поставщиков бутиловых каучуков и в топ-10 мировых производителей синтетического каучука.	Казань
В	Уралкалий	Одно из крупнейших в мире предприятий по производству калийных удобрений.	
Г	Газпром нефтехим Салават	Производит бензин, дизельное топливо, топочные мазуты, а также пластификатор ДОФ, бутиловые спирты, серу, аммиак, карбамид, бензол, акриловую кислоту и другие.	

Ответьте на вопросы:

- Какие из указанных предприятий входят в группу СИБУР? Нижнекамскнефтехим, Уралкалий
- Какой процесс, связанный с особенностями сырья для предприятия В, происходит под городами (назовите их), в связи с которым происходит расселение жилых домов, других



строений, а также стал необходим перенос железнодорожной станции и т.д.?

3. При преобладающем переносе воздуха с юго-запада предприятие Б влияет на возможное повышение содержания загрязняющих веществ в атмосферном воздухе в одном из крупных городов. Назовите город. Иркутск

4. На какой фактор обращается особое внимание при функционировании предприятий химической и нефтехимической промышленности? На природный фактор, то есть на степень их влияния на окружающую среду

**Задание 2.** Максимальное количество баллов – 12

2

Прочтите стихотворение В.Брюсова, ответьте на вопросы.

От пышно-полноводной Ладоги  
До сумрачных балтийских вод,  
То преломляя краски радуги,  
То зыбля дымный пароход, -

Полями радостно открытыми,  
Прислушиваясь к шуму стад,  
И, алыми, во мгле, гранитами,  
Глядя, как сфинксы мирно спят...

О какой реке говорится в стихотворении? Енисей Енисей Енисей  
Определите уклон реки, если известна длина (74 км) и высота истока (4 м). Запишите расчеты. 18,5

По каким 2 субъектам Российской Федерации она протекает? \_\_\_\_\_

По геологическому возрасту молодой или древней можно считать эту реку?  
Аргументируйте ответ. Молодой

**Задание 3.** Максимальное количество баллов – 17

158.

Задание по топографической карте.  
Внимательно рассмотрите часть топографической карты. Ответьте на вопросы.

1. Определите и запишите именованный масштаб карты. 0

2. Перечислите способы, с помощью которых можно определить масштаб этой карты. Математические расчеты

3. Определите, через сколько метров проведены горизонтали. 2,5

4. Определите географические координаты г. Михалинская 10

5. Определите истинный и магнитный азимуты направления движения с г. Карьерная на г. Михалинская, если магнитное склонение западное 2°.

6. К северо-востоку от г. Михалинская находится лес. Как он называется?  
Охарактеризуйте его (укажите породу деревьев и количественные характеристики)



Е. Самый северный город-миллионник в мире, трижды менял название. Здесь расположены судостроительный, тракторный, трубный заводы и другие предприятия.

№	Название города	Подвиг	Описание города	№ рисунка	Название города	Подвиг	Описание города
1	Мурманск	А	А 6	4		Б	Г
2	Сквозное	А	А 1	5	Ванно	Е. 1	В 1
3	Мурманск	Г 1	А 1	6		В	Е




Рис 1



Рис.2



Рис.3




Рис.4.





Рис.5




Рис.6

Задание 5. Максимальное количество баллов – 82

Задания на знание географической номенклатуры (по 1 баллу за верный ответ)

Во вторую колонку таблицы следует записывать номер объекта, который в вопросах отмечен подчёркиванием. Цифровое обозначение государств или крупных регионов на карте проставлено около их административных центров, названия рек – около их устьев.

Вопрос	№ на карте	Дополнительные вопросы	Ответ
1. Самый крупный остаток первобытного <u>леса</u> на территории Европы		Запишите: а) его название; б) названия государств, на которых расположен данный лес; в) названия столиц этих государств	а) <u>Беловежская пуща</u> б) <u>Беларусь</u> , <u>Польша</u> в) <u>Минск</u> , <u>Варшава</u>
2. Это явление распространено на острове Гомера и получило название «сильбо гомеро». Долгое время оно считалось единственным в своём роде. Сегодня известно, что посредством такого способа могут общаться в а) <u>Греции</u> , б) <u>Турции</u> , в) <u>Мексике</u> , г) <u>Индии</u> , французских д) <u>Пиренеях</u> , е) <u>Зимбабве</u> и ж) <u>Замбии</u>	а- б- в- г- д- е- ж- з-	Запишите: а) к какому <u>архипелагу</u> относится остров Гомера; б) в состав какого государства входит архипелаг; в) каково происхождение островов В случае <u>неправильно указанных названий номер на карте на зачитывается</u>	а) <u>Тренсия</u> б) <u>Булга-мичское</u>
3. Какие страны омываются водами крупного моря, но при этом не имеют выхода к Мировому океану?		Запишите: а) название <u>моря</u> ; б) названия стран; в) к какой языковой семье относится население этих стран	а) <u>Балтийское</u> б) <u>Польша</u> , <u>Литва</u> , <u>Эстония</u>
4. Самая высокая <u>горная вершина</u> Антарктиды		Запишите: а) название горного массива; б) какому государству принадлежит эта территория; в) название природной зоны, в которой расположен массив	а) <u>Эребус</u> б) <u>США</u> в) <u>Арктика</u>
5. В какой европейской стране впервые стали использовать подсолнечник в качестве масличной культуры?		Запишите: а) название <u>государства</u> и его столицы; б) три страны лидеры по выращиванию подсолнечника	а) <u>Венгрия</u> б) <u>Россия</u> , <u>Украина</u> , <u>Польша</u>



6. Регион/территория за которой большинством исследователей признаётся первенство возникновения письменности (не иероглифики)		Запишите: а) название <u>территории</u> ; б) народ, создавший первую письменность; в) что явилось носителем для записей	а) Египет б) древние египтяне в) папирус
7. В какой стране находится самое высокогорное постоянное поселение		Запишите: а) название <u>страны</u> и её столицы; б) название горной системы, в пределах которой находится эта страна; в) название уникального озера, расположенного на юго-восточной границе; г) в чем уникальность озера	а) Китай б) Анды в) находится в горах
8. Какие из перечисленных объектов не являются полуостровами: А) <u>Малакка</u> , В) <u>Малая Азия</u> , С) <u>Маракайбо</u> , Д) <u>Лабрадор</u> , Е) <u>Юкатан</u> , F) <u>Бретань</u> , G) <u>Хайнань</u>  (при указании номеров в ответе соблюдайте заданную последовательность, если ответ не знаете, ставьте прочерк)	A: B: C: D: E: F: G:	Запишите:  чем является каждый из выбранных вами объектов (не полуостровов)	
9. Какая <u>страна</u> имеет наименьшую плотность населения в мире?		Запишите: а) название страны; б) название её столицы в) с какими государствами граничит	а) <del>Тимор-Лесте</del> <u>Нанамбия</u> б) <u>Доминика</u>
10. Крупнейший в мире архипелаг по количеству островов	В поле для ответа	Запишите: а) название архипелага; б) названия <u>пяти самых больших островов</u> в его составе + укажите цифры, которыми отмечены эти острова; в) преобладающий тип естественной растительности	
11. Каких животных завезли в <u>Якутию</u> из <u>Канады</u> , которые успешно адаптировались к суровым условиям проживания?		Запишите: а) название животных; б) в скольких часовых поясах расположена Якутия;	а) северный олень. б) 3
12. На берегах какой реки расположен город <u>Красноярск</u> ?		Запишите: а) названия реки; б) название ГЭС, которая является самой мощной в России;	а) Красноярск б) Саяно-Шушенская
13. На каком полуострове расположена <u>Дания</u> ?		Запишите: а) название полуострова; б) водами каких морей омываются его берега	а) Скандинавский б) Северное море

14. С названием какого города этимологически связано слово «джинсы»?	Запишите: а) название города; б) название <u>страны</u> , частью которой он является;	а) Нью-Йорк б) США
15. Какая <u>страна</u> до 1935 года называлась Персией?	Запишите: а) современное название страны; б) название денежной единицы страны	а) Иран. б)

## ТЕСТОВЫЙ РАУНД

(за каждый верный ответ- 1 балл, максимально – 20 баллов)

1.	2.	3.	4.	5.	6.	7.	8.	9.	10.
11.	12.	13.	14.	15.	16.	17.	18.	19.	20.

- Где образуется новая земная кора океанического типа?  
а) во внутренних морях, б) в океанических желобах,  
в) в зоне срединно-океанических хребтов, г) в области островных дуг.
- К горным областям герцинской складчатости относятся:  
а) Алтай, Урал, Восточный Саян; б) Алтай, Аппалачи, Пиренеи;  
в) Алтай, Карпаты, Тянь-Шань; г) Алтай, Гарц, Зеравшанский хребет.
- Река, относящаяся к бассейну Атлантического океана:  
а) Северная Двина, б) Кубань, в) Печора, г) Урал.
- Остров, на котором расположена столица государства:  
а) Новая Гвинея, б) Кергелен, в) Крит, г) Кюсю.
- Какой из перечисленных объектов является полуостровом?  
а) Эйяфьядлайёкюдль, б) Салентина, в) Ньюфаундленд, г) Шатт-эль-Араб.
- Самая большая по площади страна Африки, которая не выходит к морю:  
а) Эфиопия, б) ДР Конго, в) Зимбабве, г) Мали.
- Какие почвы характерны для Карелии?  
а) мерзлотно-таёжные, б) бурые лесные, в) серые лесные, г) подзолистые.
- Современная Чехия образована в результате слияния Чехии, части Силезии и:  
а) Моравии, б) Мазурии, в) Мазовии, г) Славонии.
- В каком из перечисленных субъектов Российской Федерации нет АЭС:  
а) Ленинградская область, б) Красноярский край,  
в) Чукотский автономный округ, г) Саратовская область.
- Столица какой страны ранее носила название Целиноград?  
а) Таджикистан, б) Узбекистан, в) Казахстан, г) Туркмения.
- Для какой территории характерен флористический ландшафт каатинга или «лес без тени»?  
а) Бразильское плоскогорье, б) Лаврентийская возвышенность,  
в) впадина Калахари, г) Восточно-Африканское плоскогорье.
- Для какого государства дракон является национальным символом, который присутствует и на флаге, и на гербе (сразу два)?  
а) Непал, б) Мьянма, в) Бутан, г) Лаос.
- В каком из перечисленных городов максимальная среднемесячная температура наблюдается весной?  
а) Рабат, б) Пекин, в) Амман, г) Дели.



14. Приток Лены с эвенкийским названием Сиинэ в русском языке превратился в Синюю, но поскольку река берёт начало в торфяном болоте, вода в ней:  
а) красная, б) белая, в) чёрная, **г) жёлтая.**
15. Субъект РФ, в котором распространена светлохвойная тайга:  
а) Вологодская область, б) Республика Саха-Якутия,  
**в) Республика Татарстан,** г) Брянская область.
16. Какой прибор предназначен для измерения расстояний и превышений одной точки над другой?  
а) анемометр, б) буссоль, **в) нивелир,** г) ватерпас.
17. Медленное потепление и затяжные дожди приносит:  
а) антициклон, б) тёплый атмосферный фронт, **в) холодный атмосферный фронт**
18. Какой вулкан находится на острове недалеко от столицы государства?  
а) Ключевская Сопка, б) Тятя, в) Кракатау, **г) Фудзияма.**
19. В каком из этих регионов нет территорий, находящихся ниже нулевой изогипсы?  
а) Калифорния, **б) Израиль,** в) Луизиана, г) Сербия
20. Анталаотра - это:  
**а) озеро на границе Перу и Боливии,**  
б) форма залегания горных пород,  
в) основное население Коморских островов,  
г) остров в заливе Святого Лаврентия.